

МИНОБРНАУКИ РОССИИ



Федеральное государственное бюджетное образовательное учреждение  
высшего образования  
«Российский государственный гуманитарный университет»  
(ФГБОУ ВО «РГГУ»)

**ОЛИМПИАДА РГГУ ДЛЯ ШКОЛЬНИКОВ ПО ОБЩЕСТВОЗНАНИЮ**

**2021 г.**

**Отборочный этап**

**10 класс**

**Вариант № 21-ОШ-1-10 Обществознание**

**Инструкция**

20 заданий разделены на две группы различной сложности. На их выполнение отводится 60 минут.

**1 группа.** К каждому заданию предлагается несколько вариантов ответа, из которых правильным является ТОЛЬКО ОДИН.

**2 группа.** Предлагается несколько вариантов заданий: задания, предполагающие несколько вариантов ответа (от 2 до 4) и задание на нахождение соответствия между вариантами ответа.

Максимальное количество баллов за ответы на задания 1 – 12 (1 группа) - 36 баллов, на задания 13 – 20 (2 группа) – 64 балла.

**Группа 1**

1. Летом 2020 года прошло общероссийское голосование по вопросу одобрения изменений в Конституцию РФ. Выберите из перечисленных суждений одно, в котором верно приведена информация о внесенных изменениях.

- а) внесен пункт, согласно которому Президент РФ, прекративший исполнение своих полномочий, может быть лишен неприкосновенности;
- б) изменен список личных (гражданских) прав и свобод;
- в) Государственная Дума РФ наделена правом объявлять вотум недоверия Правительству РФ;
- г) прекращаются полномочия Высшего Арбитражного Суда РФ.

2. Какое право предоставляет такая ценная бумага?



- а) право входить в совет директоров;
- б) право голосовать на собрании акционеров;
- в) право погасить эту акцию по номинальной стоимости;
- г) право получать дивиденды.

3. Гедонизм предполагает:

- а) гендерное равенство;
- б) стремление к совершенству;
- в) тягу к наслаждениям;
- г) преследование личной выгоды.

4. Эмпиризм в теории познания предусматривает опору:

- а) на здравый смысл;
- б) на практику;
- в) на чувственный опыт;
- г) на интуицию.

5. Какой критерий отличает традиционное общество от индустриального общества:

- а) хозяйство;
- б) территория;
- в) письменность;
- г) культура.

Вариант № 21-ОШ-1-10 Обществознание

6. В чем, с точки зрения действующего российского законодательства, состоит разница между сделкой и договором?

- а) участником сделки может быть одно лицо, тогда как договор требует участия как минимум двух лиц;
- б) договор заключается в письменном виде, тогда как сделка может быть устной;
- в) договор должен быть официально зарегистрирован, тогда как сделка не нуждается в регистрации;
- г) сделка всегда совершается с намерением породить юридически значимые последствия, тогда как заключение договора может не порождать таких последствий.

7. Как называется ранжирование индивида или группы в социальном пространстве:

- а) социальная стратификация;
- б) социальная мобильность;
- в) социальная дифференциация;
- г) социальное положение.

8. Что из перечисленного несовместимо с политическими принципами демократии?

- а) ценз гражданства;
- б) образовательный ценз;
- в) ценз оседлости;
- г) возрастной ценз.

9. Василию 18 лет, он признан беженцем. Какая черта характеризует его социальный статус?

- а) неустойчивость;
- б) аскриптивность;
- в) маргинальность;
- г) нелегальность.











10. Абсентеизм – это:

- а) форма активного протестного поведения;
- б) метод научного познания;
- в) полное неприятие социальных норм;
- г) утрата доверия к властным структурам.

11. Рассмотрите сводку торгов ведущих криптовалют и установите, рыночная капитализация какой из них сильнее всего выросла за последнюю неделю.

(AU)

**Ведущие криптовалюты »**

Название :	Тикер :	Цена (USD)	Рын. кап. :	Объём (24ч) :	Объём :	Изм. (24ч) :	Изм. (7 д.) :
 <b>Биткоин</b>	BTC	18.093,4	337,48B \$	30,56B \$	21,41%	+1,90%	-1,80%
 <b>Эфириум</b>	ETH	564,46	64,42B \$	14,38B \$	10,07%	+3,86%	+0,02%
 <b>Рипл</b>	XRP	0,60072	27,44B \$	15,43B \$	10,81%	-4,25%	+30,85%
 <b>Tether</b>	USDT	1,0007	19,13B \$	55,76B \$	39,07%	-0,05%	+0,13%
 <b>Лайткоин</b>	LTC	79,455	5,27B \$	5,26B \$	3,69%	+7,88%	-5,59%
 <b>Bitcoin Cash</b>	BCH	282,28	5,25B \$	2,19B \$	1,53%	+1,78%	-3,12%
 <b>Chainlink</b>	LINK	13,15	5,21B \$	1,22B \$	0,86%	-0,05%	-10,36%
 <b>Cardano</b>	ADA	0,163305	5,11B \$	1,74B \$	1,22%	-1,00%	+10,33%
 <b>Polkadot</b>	DOT	5,11510	4,54B \$	443,42M \$	0,31%	+5,22%	-8,71%
 <b>Binance Coin</b>	BNB	30,1626	4,37B \$	348,75M \$	0,24%	+3,34%	0%

- а) биткоин;
- б) эфириум;
- в) рипл;
- г) лайткоин.

12. Гражданин РФ, имеющий вид на жительство иностранного государства, согласно действующему российскому законодательству, не может быть:

- а) только Президентом РФ;
- б) только Президентом РФ и сенатором;
- в) только Президентом РФ, сенатором и депутатом Государственной Думы РФ;
- г) Президентом РФ, сенатором, депутатом Государственной Думы РФ и членом Правительства РФ.

## Группа 2

13. Выберите из предложенного списка преступления, ответственность за которые наступает в возрасте 14 лет:

- а) несообщение о преступлении;
- б) участие в массовых беспорядках;
- в) неправомерное завладение автомобилем или иным транспортным средством без цели хищения;
- г) хулиганство при отягчающих обстоятельствах;
- д) государственная измена.

14. Нострификация диплома о высшем образовании позволяет российским выпускникам:

- а) получить привилегии для обучения за границей;
- б) заменить его на диплом европейского уровня;
- в) повысить уровень своей конкурентоспособности;
- г) подтвердить полученный уровень образования;
- д) получить возможность обучения и работы за границей.

**Вариант № 21-ОШ-1-10 Обществознание**

15. Выберите из предложенных изображений те, которые иллюстрируют объекты недвижимости.

а)



б)



в)



Вариант № 21-ОШ-1-10 Обществознание

г)



д)



16. Рассмотрите фотографию и выберите верные утверждения.



- а) Вещественные атрибуты у людей являются маркерами их социально-статусных позиций.
- б) Организации, к которой принадлежат люди, обладают неформальным статусом.

**Вариант № 21-ОШ-1-10 Обществознание**

- в) На фотографии изображена, скорее всего, формальная группа.  
 г) Люди, изображенные на фотографии, не имеют отношения ни к одной политической идеологии.  
 д) Группа на фото имеет выраженную социальную иерархию.

17. Какие из перечисленных суждений являются общими для политико-философских концепций Томаса Гоббса и Шарля Луи де Монтескье:

- а) естественное состояние общества – «война всех против всех»;  
 б) разработка теории общественного договора;  
 в) разработка теории разделения властей;  
 г) поиск эмпирических оснований справедливости;  
 д) наличие у людей неотъемлемых прав и свобод.

18. Изучите представленные на изображении результаты парламентских выборов в Гвинее и выберите верные суждения.

Партия	Мажоритарные			Пропорциональные			Всего	+/-
	Голосов	%	Мест	Голосов	%	Мест		
Объединение гвинейского народа	2 417 476	88,94	37	1 591 650	55,27	42	79	▲ 26
Демократический союз Гвинеи	56 085	2,06	0	151 576	5,26	4	4	новая
Народное демократическое движение Гвинеи	74 343	2,73	0	113 702	3,95	3	3	новая
Новые демократические силы	4711	0,17	1	76 612	2,66	2	3	новая
Союз за прогресс и обновление	14 597	0,54	0	76 512	2,66	2	2	▲ 1
Объединение за интегральное развитие Гвинеи	23 901	0,88	0	76 412	2,65	2	2	▲ 1
Союз сил перемен	-	-	-	76 208	2,65	2	2	новая
Демократическая альтернатива за перемены - Блок конструктивной оппозиции	-	-	-	76 188	2,65	2	2	новая
Гвинея за демократию и равенство	31 671	1,16	0	76 012	2,64	2	2	новая
Гвинейская партия за возрождение и прогресс	-	-	-	39 706	1,38	1	1	—
Партия Афия	-	-	-	39 126	1,36	1	1	▲ 1
Гражданское образование	-	-	-	39 106	1,36	1	1	▲ 1
Объединённые силы за развитие	-	-	-	39 106	1,36	1	1	новая
Гвинейская партия за прогресс и развитие	-	-	-	38 430	1,33	1	1	▲ 1
Объединение за возрождение и развитие	10 608	0,39	0	38 310	1,33	1	1	новая

- а) выборы осуществлялись по смешанной системе;  
 б) для избирательного права данного государства характерен высокий заградительный барьер;  
 в) при данной системе выборов невозможно прохождение в парламент независимых кандидатов;  
 г) данная политическая система относится к многопартийным системам с доминирующей партией;  
 д) политологи могут охарактеризовать партийную систему данной страны как нестабильную.

19. Правительство страны N решило девальвировать национальную валюту. Какие из предложенных ниже действий ему следует для этого предпринять?

- а) отказаться от покупки иностранной валюты на национальном рынке;
- б) повысить ставку рефинансирования коммерческих банков;
- в) увеличить государственные расходы;
- г) увеличить размеры пособия по безработице;
- д) отказаться от регулирования курса национальной валюты на внутреннем рынке.

20. К глобальным проблемам человечества относятся:

- а) снижение жизненного уровня населения;
- б) сокращение рождаемости в развитых странах;
- в) снижение качества среднего образования;
- г) предотвращение новой мировой войны;
- д) преодоление последствий экологического кризиса.

Председатель предметной методической комиссии  
по обществознанию  
доктор социологических наук, профессор



М.Б. Буланова